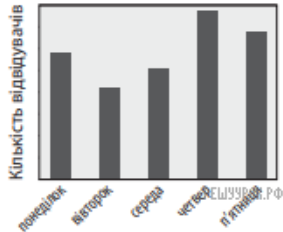


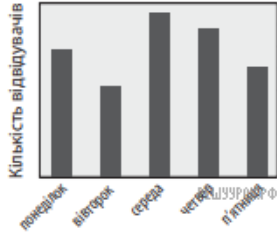
У таблиці наведено дані про кількість глядачів, які відвідали кінотеатр протягом п'яти днів тижня.

День тижня	понеділок	вівторок	серeda	четвер	п'ятниця
Кількість відвідувачів	82	116	102	140	130

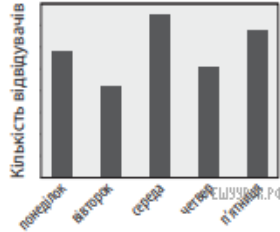
На діаграмах немає шкали (градації) кількості глядачів. Визначте, на якій діаграмі правильно відображено дані, наведені в таблиці.



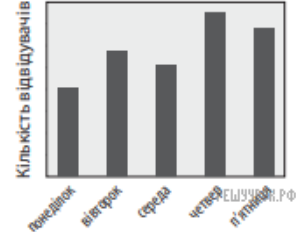
А)



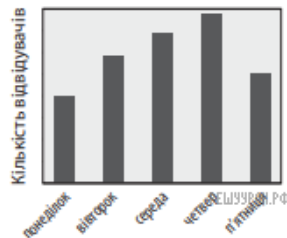
Б)



В)



Г)



Д)

- А) А    Б) Б    В) В    Г) Г    Д) Д