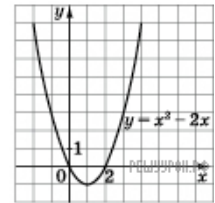
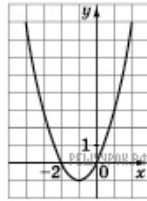


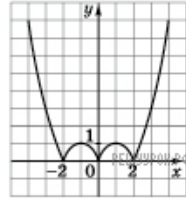
На рисунку зображено графік функції $y = x^2 - 2x$. Укажіть графік функції $y = |x^2 - 2x|$.



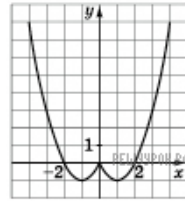
А



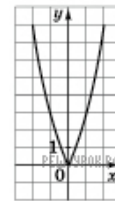
Б



В



Г



Д

А) А Б) Б В) В Г) Г Д) Д