

Установіть відповідність між фігурою (1–4) і тілом обертання (А–Д), яке утворено внаслідок обертання цієї фігури навколо прямої, зображеної пунктиром.

Фігура



1. рівнобедрений трикутник



2. рівнобедрений трикутник

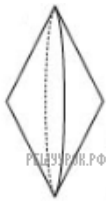


3. рівнобедрена трапеція

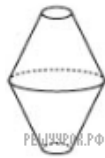


4. рівнобедрена трапеція

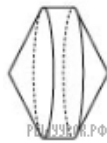
Тіло обертання



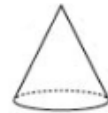
А



Б



В



Г



Д

А
Б
В
Г
Д

- 1
○ ○ ○ ○ ○
2
○ ○ ○ ○ ○
3
○ ○ ○ ○ ○
4
○ ○ ○ ○ ○