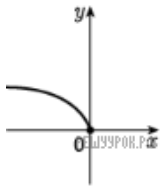
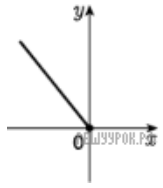


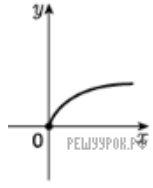
На одному з рисунків зображено ескіз графіка функції $y = \sqrt{-x}$. Укажіть цей рисунок.



А



Б



В



Г



Д

А) А Б) Б В) В Г) Г Д) Д