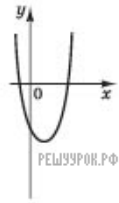
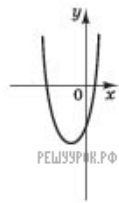


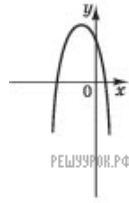
На якому з наведених рисунків зображено ескіз графіка функції  $y = 4 - (x - 1)^2$ ?



А



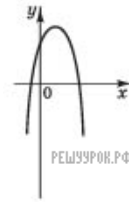
Б



В



Г



Д

А) А    Б) Б    В) В    Г) Г    Д) Д