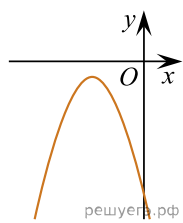
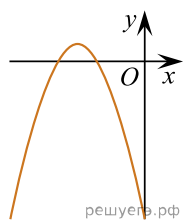


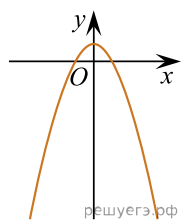
Вкажіть номер малюнка, на якому представлений ескіз графіка функції $y = 1 - (x - 3)^2$.



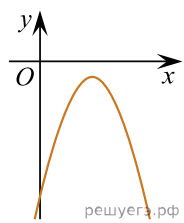
1)



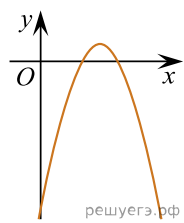
2)



3)



4)



5)

А) 1 Б) 2 В) 3 Г) 4 Д) 5