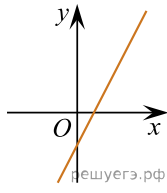
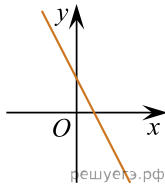


Укажіть з-поміж наведених ескіз графіка функції  $y = -2x + 3$ .

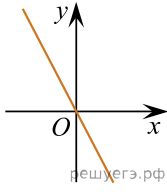
А)



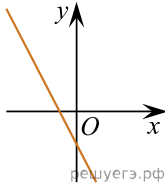
Б)



В)



Г)



Д)

