

Установіть відповідність між початком речення (1–3) і його закінченням (А–Д) так, щоб утворилося правильне твердження.

Рис. 1

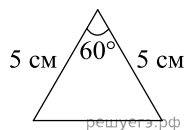


Рис. 2

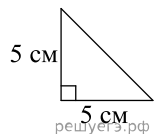


Рис. 3

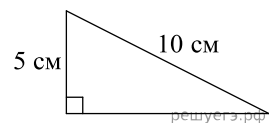


Рис. 4

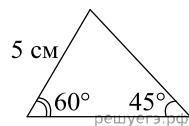


Рис. 5



Початок речення

1. Трикутник, у якого центри вписаного й описаного кіл збігаються, зображено на
2. Трикутник, один із внутрішніх кутів якого дорівнює 30° зображено на
3. Трикутник, у якого радіус описаного кола більший за 5 см, зображено на

Закінчення речення

А рис. 1. Б рис. 2. В рис. 3. Г рис. 4. Д рис. 5.

А
Б
В
Г
Д

- 1
○ ○ ○ ○ ○
- 2
○ ○ ○ ○ ○
- 3
○ ○ ○ ○ ○