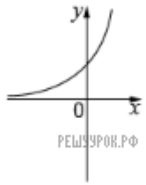
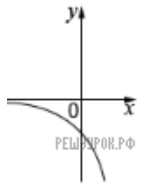


На одному з рисунків зображено ескіз графка функції $y = 3^{-x}$. Укажіть цей рисунок.



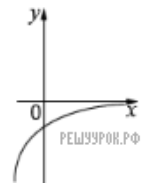
А)



Б)



В)



Г)



Д)

А) А Б) Б В) В Г) Г Д) Д